


## STAČIAKAMPIS IR KVADRATAS



**Rekomenduojama su vaikais prisiminti stačiakampio ir kvadrato figūras, užduodant jiems šiuos klausimus:**


- 1. Kiek kampų turi kvadratas?**
- 2. Kiek kampų turi stačiakampis?**
- 3. Kurios figūros visos kraštinės lygios?**
- 4. Kuo stačiakampis ir kvadratas panašūs?**
- 5. Kuo stačiakampis ir kvadratas skiriasi?**

### Žaidimas

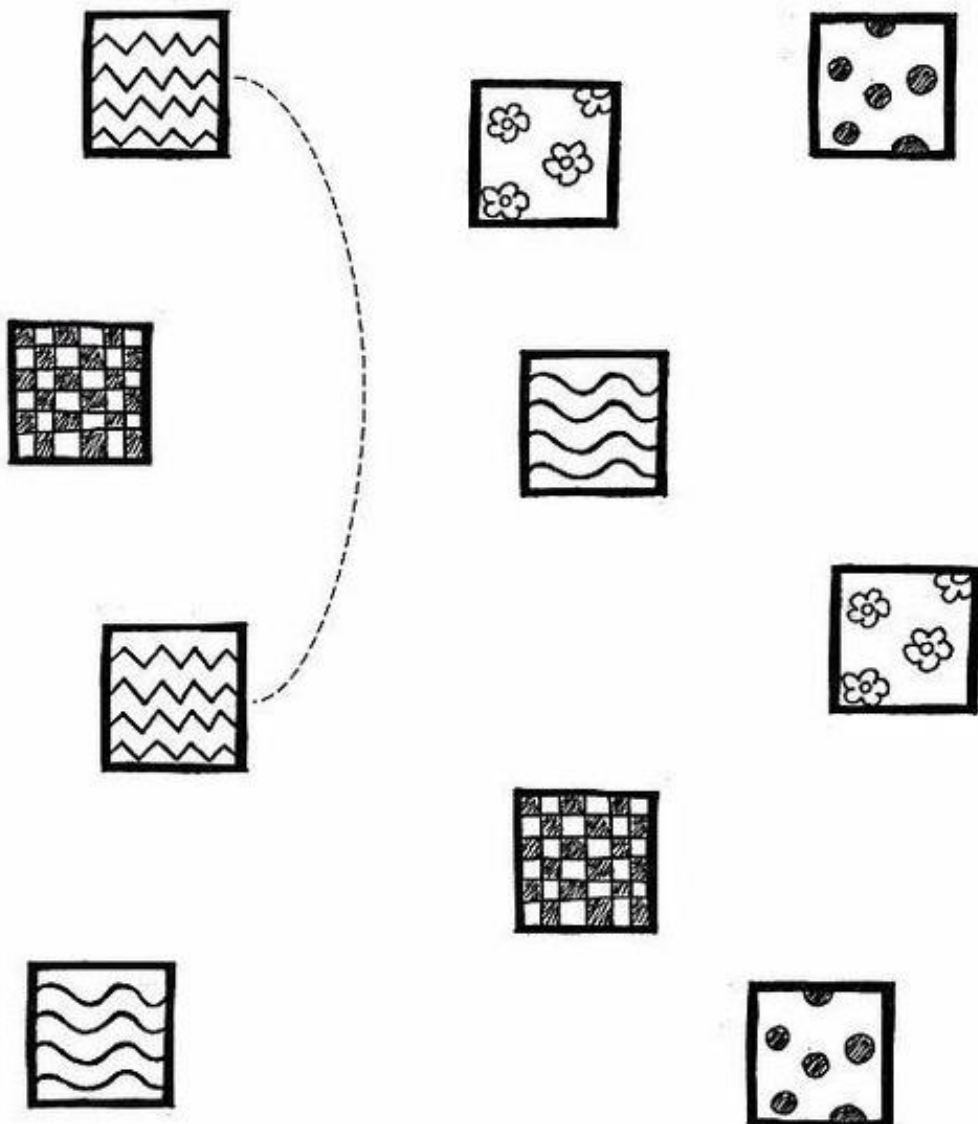
Apsidairyk aplink. Surask namuose ar lauke daiktų, kurie būtų kvadrato arba stačiakampio formos. Suskaičiuok kiek tokių daiktų pavyko surasti.

**Rekomenduojama vaizdinė medžiaga pavadinimu „MOKOMĖS GEOMETRINES FIGŪRAS“**  
<https://www.youtube.com/watch?v=8qWkCsyZmE>  
<https://www.youtube.com/watch?v=K8zPX31zl30>

**1. NUSPALVINK KVADRATO FORMOS DAIKTUS ŽALIAI, O STAČIAKAMPIO – MĖLYNAI.**



**2. SUJUNK VIENODUS KVADRATUS. SUSKAIČIUOK KIEK PORŲ SUDAREI.**



**3. RASK IR SUJUNK DIDŽIASIAS RAIDES SU MAŽOSIOMIS.**

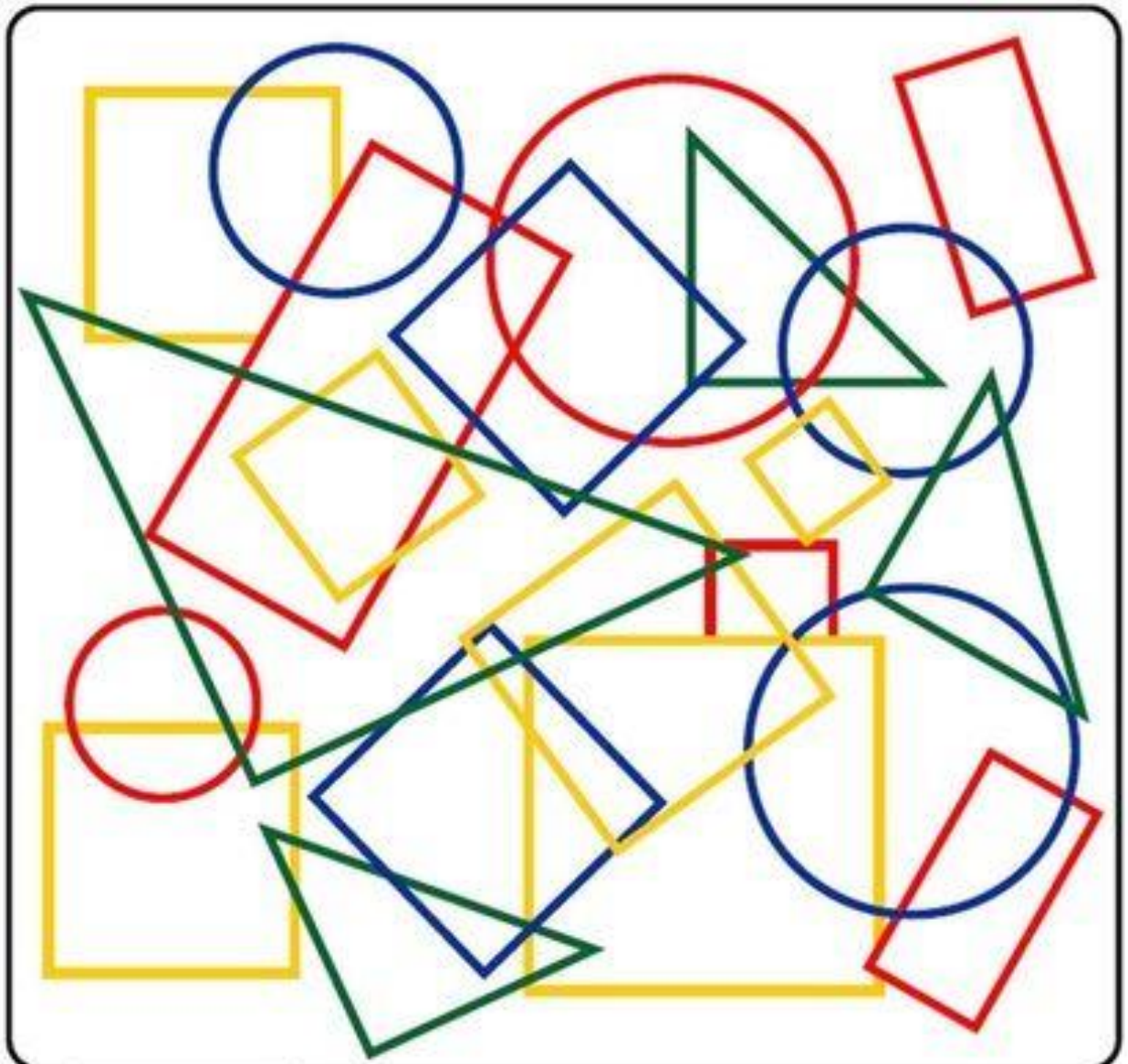
KVADRATAS

← k a s j a l s d j f v j ž s j f h e s k a s i f k d h m f j f h d s d o f l d j r f è k f u f d a i d d d t l d a o l f s k

STAČIAKAMPIS

d s j d f h f j u m t r f i r u e a y h e k i č r ū o t k i e u e a o l s r f o k t i t i a t k j r m f o l r f l p e i o u s

**4. SURASK PASISLĖPUSIUS STAČIAKAMPIUS IR KVADRATUS. SUSKAIČIUOK.**



**5. ATSAKYK Į KLAUSIMUS:**

- 1. KURIAME PAVEIKSLĖLYJE RAUDONAS KVADRATAS YRA TARP SKRITULIO IR TRIKAMPIO?**
- 2. KURIAME PAVEIKSLĖLYJE RAUDONAS KVADRATAS YRA UŽ TRIKAMPIO IR SKRITULIO?**
- 3. KURIAME PAVEIKSLĖLYJE RAUDONAS KVADRATAS YRA PRIEŠ TRIKAMPĮ IR SKRITULĮ?**

